

TİRE İLÇE MİLLİ EĞİTİM MÜDÜRLÜĞÜ İLKOKUL DÜZEYİ
AKIL VE ZEKA OYUNLARI YARIŞMASI 2.AŞAMA SORULARI

SORU 1



Yanda verilen sihirli piramit oyununda, oyunun doğru çözümüne göre en alt dairede hangi sayının olması gerekir?

- A) 3
- B) 4
- C) 7
- D) 8

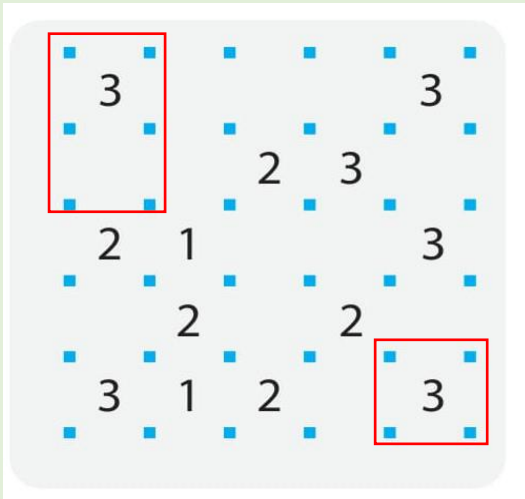
SORU 2

2	3		5	1	
1		5	3		2
	2	1		6	5
5	4		2	3	
4		2	6		3
	5	3		2	4

Yanda sudoku oyununda kırmızı kutucuklarla belirtilmiş bölümlere gelecek sayıların çarpımı sonucu kaçtır?

- A) 86
- B) 96
- C) 120
- D) 112

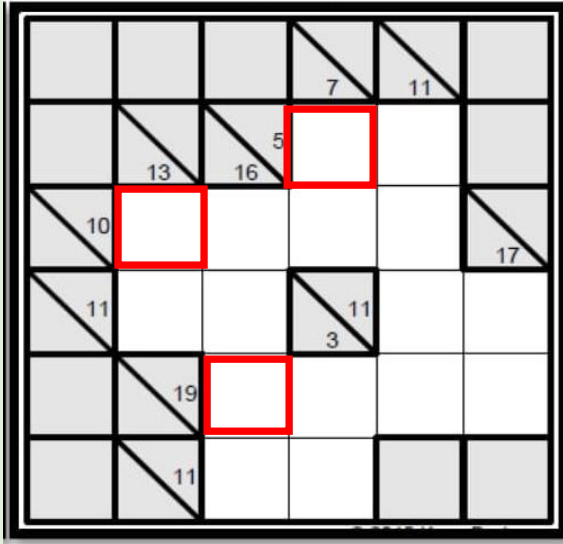
SORU 3



Yanda belirtilen çit oyununda doğru çözüm yapıldığında işaretli alanlarda her iki nokta arasından çitin toplamda kaç kez geçtiği görülür?

- A) 8
- B) 7
- C) 6
- D) 9

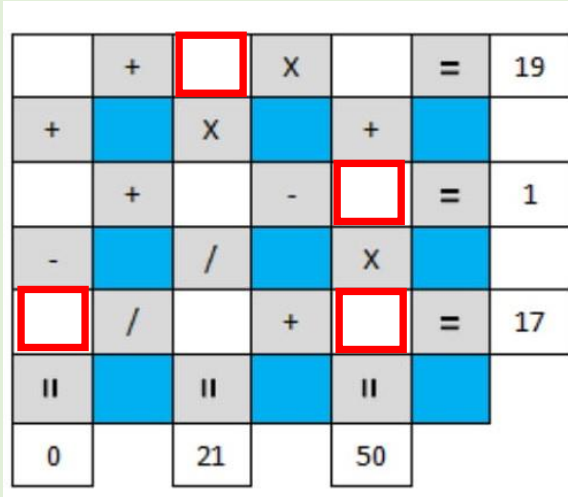
SORU 4



Görselde verilen oyunda işlemlerin tam ve doğru bir şekilde yapılabilmesi için kırmızı kutucuk ile belirtilen bölümlere aynı sayının gelmesi gerekmektedir. Bu sayı aşağıdakilerden hangisinde doğru olarak verilmiştir?

- A) 3
- B) 2
- C) 4
- D) 6

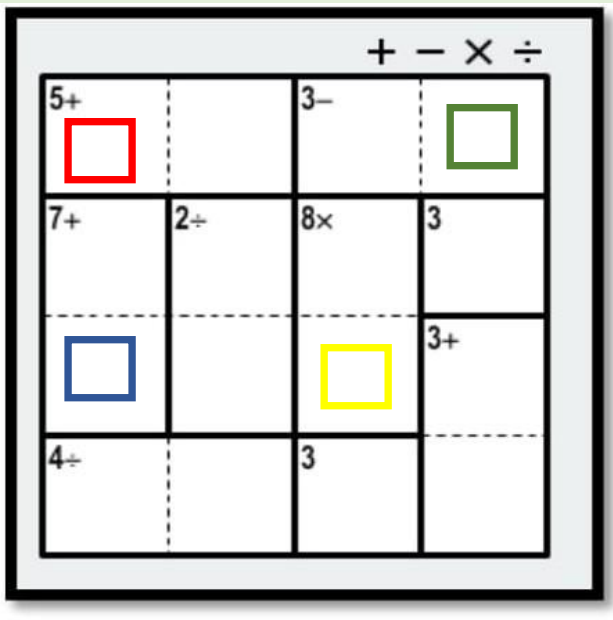
SORU 5



Yandaki işlem karesinde 1'den 9'a kadar sayıların birer kez kullanılmasıyla tüm işlemlerin doğru sonuçlandığı bilinmektedir. Bu durumda işaretlenmiş kutucuklarda kullanılan sayıların en büyüğü ile en küçüğü arasındaki fark kaçtır?

- A) 2
- B) 3
- C) 5
- D) 4

SORU 6



Görselde verilen oyunda, işaretlenmiş ve renklerle gösterilmiş bölümlerden hangi ikisinin çarpımı en büyük sayıyı verir?

- A) Kırmızı – Sarı
- B) Yeşil – Mavi
- C) Mavi – Kırmızı
- D) Sarı - Yeşil

SORU 7

		3	
			✓
	2		
			1

Yandaki oyunda oyun kurallarına göre işlemler yapıldıktan sonra belirtilmiş bölümdeki sayıların sıralaması yukarıdan aşağıya nasıl olmalıdır?

- A) 2-4-3-1
- B) 3-2-1-4
- C) 2-4-1-3
- D) 3-2-4-1

SORU 8

			1		
	3	3	1	2	1
4					
1					
3					
2					
3					

Yanda verilen kare karalamaca oyununda işlemler sonunda kaç kutucuğun karalanması gerekmektedir?

- A) 13
- B) 16
- C) 15
- D) 17

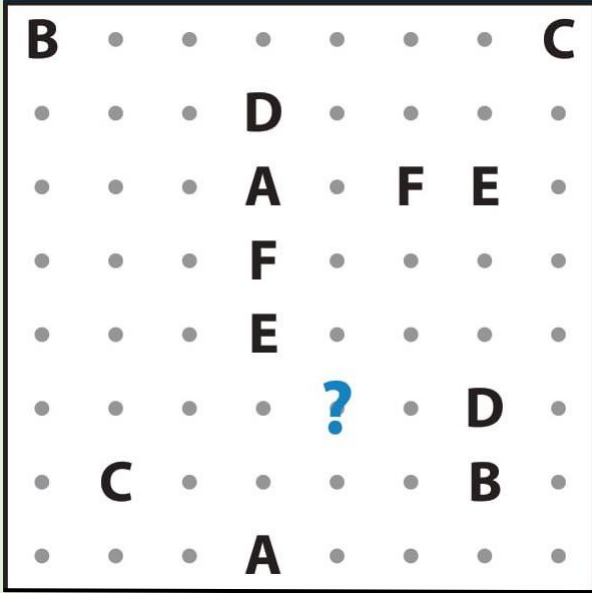
SORU 9

1			4	2	
2					?
		1	5		
		3	2		
?					6
	6	5			2

Yandaki bölgesel sudoku oyununda doğru çözüme uygun olarak soru işaretleriyle gösterilen kutucukların toplamı hangi seçenekte doğru olarak verilmiştir?

- A) 8
- B) 9
- C) 10
- D) 11

SORU 10



Oyun üzerinde soru işaretiyle verilen nokta üzerinden hangi harfe ait yol geçmektedir?

- A) E
- B) D
- C) B
- D) C

2. Aşama sınav soruları burada sona ermiştir.
Sorularınızın cevap şıklarını Tire İlçe Milli Eğitim Müdürlüğü
İnternet sitesinde verilen forma yüklemeyi unutmayınız.
Yarışma sonuçları 30 Nisan Cuma günü saat 19.30 itibariyle Tire
İlçe Milli Eğitim Müdürlüğü sitesinden ve sosyal medya
sayfaları üzerinden yayınlanacaktır.