

**TİRE İLÇE MİLLİ EĞİTİM MÜDÜRLÜĞÜ LİSE DÜZEYİ**  
**AKIL VE ZEKA OYUNLARI YARIŞMASI 2.AŞAMA SORULARI**

**SORU 1**

					+ - × ÷
45×	□	12+		2+	
	4+		□		
3-		2-		15+	
8×	□				
	11+				

5X5 alan üzerinde oynanan yanda verilmiş kendoku oyununda belirtilmiş alanlara yazılması gereken sayıların çarpımı kaçtır?

- A) 27
- B) 30
- C) 24
- D) 28

**SORU 2**

			1		1
	1	3	2	3	2
1					
3					
1	1				
4					
3					

Belirtilen kare karalama oyunu görseline göre, doğru bir şekilde oynan oyun sonunda alan üzerinde kaç karenin karalanması gerekmektedir?

- A) 13
- B) 22
- C) 15
- D) 17

### SORU 3

	1				
4					
			>		5
	5				
1	3	>			

Futoshiki oyun alanı üzerinde belirtilen alanda sayıların yukarıdan aşağıya doğru sıralanışı aşağıdakilerden hangisinde doğru olarak verilmiştir?

- A) 3-2-5-4-1
- B) 3-2-1-5-4
- C) 2-3-1-4-5
- D) 2-1-4-5-3

### SORU 4

			7	24		
		12			21	
	28					4
4	3		19			
6			13		3	
	20					
		4				

Verilen oyun alanı üzerinde yapılan doğru işlem sonucunda belirtilen kutucuklara gelecek sayıların toplamı hangi seçenekte doğru olarak verilmiştir?

- A) 13
- B) 15
- C) 12
- D) 14

SORU 5

2				6		8	4	1
	4	1			3			
			8				5	
		5	9			6	8	
	7		3	2	4		1	
	1	4			6	3		
	3				5			
			1			4	9	
1	9	6		7				2

Yanda verilen sudoku oyununda işaretlenmiş bölümdeki sayıların yukarıdan aşağıya dizilişi aşağıdakilerden hangisinde doğru olarak verilmiştir?

- A) 9-3-4-5-7
- B) 5-3-4-2-7
- C) 2-4-9-3-5
- D) 7-6-2-8-6

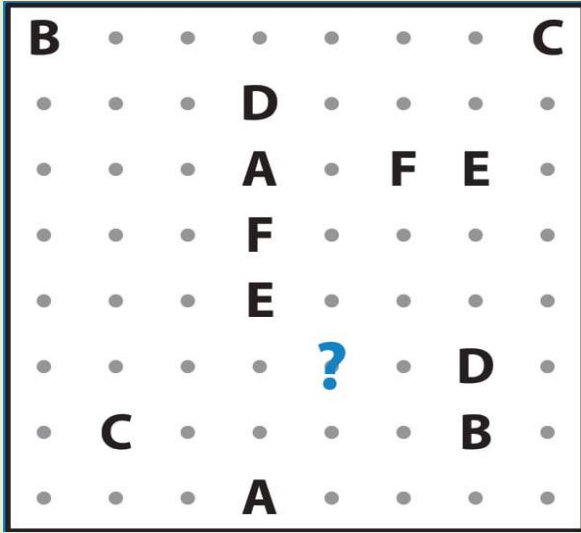
SORU 6

					72
	?				40
		?			21
			?		6
					10
6	10	40	24	63	1-10

Çarpmaca oyunu üzerinde soru işareti ile gösterilmiş karelere gelmesi gereken sayıların toplamı aşağıdakilerden hangisinde doğru olarak verilmiştir?

- A) 18
- B) 14
- C) 16
- D) 20

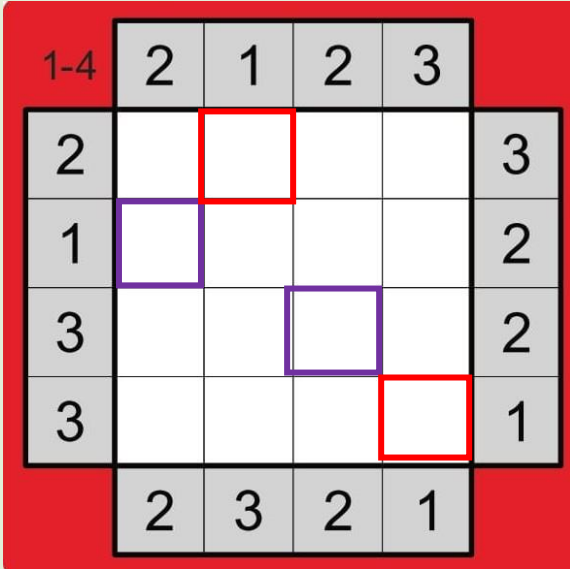
### SORU 7



Yanda verilen görselde geçen soru işaretinin olduğu noktadan hangi harfin yolu geçer?

- A) C
- B) D
- C) B
- D) A


### SORU 8



Yanda verilen apartmanlar oyunu üzerinde oyunun doğru çözümü sonrası aynı renk kutucuklarda bulunan sayıların çarpımlarının toplamı aşağıdakilerden hangisinde doğru olarak verilmiştir?

- A) 28
- B) 32
- C) 36
- D) 24

### SORU 9



Yanda verilmiş olan Sihirli Piramit oyununun doğru çözümüne göre sayıların sıralanışına bakılarak aşağıdaki üç basamaklı sayılardan hangisini oluşturmak mümkün olabilir?

- A) 845
- B) 612
- C) 543
- D) 653

SORU 10

	4			2	6
5	6				
			6	4	?
		5	3		
6		4		?	
2	?				

Yandaki bölgesel sudoku oyununda doğru çözüme uygun olarak soru işaretleriyle gösterilen kutucuklardaki sayıların çarpımı hangi seçenekte doğru olarak verilmiştir?

- A) 18
- B) 27
- C) 32
- D) 15

**2. Aşama sınav soruları burada sona ermiştir.**

**Sorularınızın cevap şıklarını Tire İlçe Milli Eğitim Müdürlüğü  
İnternet sitesinde verilen forma yüklemeyi unutmayınız.**

**Yarışma sonuçları 30 Nisan Cuma günü saat 19.30 itibariyle Tire  
İlçe Milli Eğitim Müdürlüğü sitesinden ve sosyal medya  
sayfaları üzerinden yayınlanacaktır.**